

# 9 Estudio de funciones

## ACTIVIDADES INICIALES

9.I. Resuelve las siguientes inecuaciones.

- a)  $2x^2 + 10x + 12 < 0$     b)  $\frac{x-4}{x+1} \leq 0$     c)  $x - x^3 \geq 0$     d)  $\frac{x^2 - 7x + 12}{x^2 - 9} > 0$
- a)  $(-3, -2)$     b)  $(-1, 4]$     c)  $(-\infty, -1] \cup [0, 1]$     d)  $(-\infty, -3) \cup (4, +\infty)$

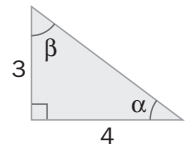
9.II. Halla el valor en radianes de los siguientes ángulos.  $30^\circ$ ,  $45^\circ$ ,  $60^\circ$ ,  $90^\circ$ ,  $120^\circ$ ,  $180^\circ$ ,  $225^\circ$  y  $330^\circ$

$$30^\circ = \frac{\pi}{6}; 45^\circ = \frac{\pi}{4}; 60^\circ = \frac{\pi}{3}; 90^\circ = \frac{\pi}{2}; 120^\circ = \frac{2\pi}{3}; 180^\circ = \pi; 225^\circ = \frac{5\pi}{4}; 330^\circ = \frac{11\pi}{6}$$

9.III. Calcula el valor en grados de estos ángulos:  $\frac{\pi}{2}$ ,  $\frac{\pi}{3}$ ,  $\frac{\pi}{4}$ ,  $\frac{\pi}{6}$ ,  $\pi$ ,  $\frac{3\pi}{4}$ ,  $\frac{4\pi}{3}$  y  $\frac{3\pi}{2}$ .

$$\frac{\pi}{2} = 90^\circ; \frac{\pi}{3} = 60^\circ; \frac{\pi}{4} = 45^\circ; \frac{\pi}{6} = 30^\circ; \pi = 180^\circ; \frac{3\pi}{4} = 135^\circ; \frac{4\pi}{3} = 240^\circ; \frac{3\pi}{2} = 270^\circ$$

9.IV. a) Calcula las razones trigonométricas de los ángulos  $\alpha$  y  $\beta$  de la figura.  
b) Con ayuda de la calculadora, halla el valor de  $\alpha$  y  $\beta$ .



- a) La hipotenusa del triángulo vale 5 unidades por Pitágoras. Por tanto,  $\text{sen } \alpha = \frac{3}{5}$ ;  
 $\text{sen } \beta = \frac{4}{5}$ ;  $\text{cos } \alpha = \frac{4}{5}$ ;  $\text{cos } \beta = \frac{3}{5}$ ;  $\text{tg } \alpha = \frac{3}{4}$ ;  $\text{tg } \beta = \frac{4}{3}$
- b)  $\beta = 53,13^\circ$  y  $\alpha = 36,87^\circ$

## EJERCICIOS PROPUESTOS

9.1. Encuentra los puntos de corte con los ejes de las siguientes funciones y estudia su signo.

- a)  $f(x) = 6x - 5$     b)  $f(x) = x^2 + 3x - 4$     c)  $f(x) = \frac{(x-3)(x+2)}{x+1}$

a) Corte con el eje X:  $(\frac{5}{6}, 0)$ . Corte con el eje Y:  $(0, -5)$

Signo: positivo si  $6x - 5 > 0$ , es decir,  $x > \frac{5}{6}$ . Negativo si  $x < \frac{5}{6}$ .

b) Corte con el eje X:  $(1, 0)$  y  $(-4, 0)$ . Corte con el eje Y:  $(0, -4)$

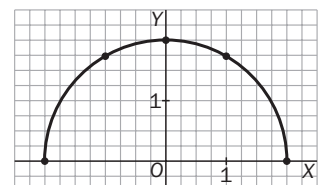
Signo: positivo si  $x^2 + 3x - 4 > 0$ , es decir, en  $(-\infty, -4) \cup (1, +\infty)$ . Negativo en  $(-4, 1)$ .

c) Corte con el eje X:  $(3, 0)$  y  $(-2, 0)$ . Corte con el eje Y:  $(0, -6)$

Signo: positivo si  $\frac{(x-3)(x+2)}{x+1} > 0$ , es decir, en  $(-2, -1) \cup (3, +\infty)$ . Negativo en  $(-\infty, -2) \cup (-1, 3)$ .

9.2. Representa mediante una tabla de valores la función  $y = \sqrt{4 - x^2}$ .

$x$	2	1	0	-1	-2
$\sqrt{4 - x^2}$	0	$\sqrt{3}$	2	$\sqrt{3}$	0



9.3. Estudia si las siguientes funciones son pares o impares, o si no presentan ninguna de estas simetrías.

a)  $f(x) = \frac{x^2}{x^2 - 4}$       b)  $f(x) = \frac{1}{x^3 + 1}$       c)  $f(x) = x^5 - x^3 + x$

a)  $f(-x) = \frac{x^2}{x^2 - 4} = f(x)$ , luego es par.

b)  $f(-x) = \frac{1}{-x^3 + 1} \neq f(x), -f(x)$ , luego no presenta estas simetrías.

c)  $f(-x) = -x^5 - x^3 - x = -f(x)$ , luego es impar.

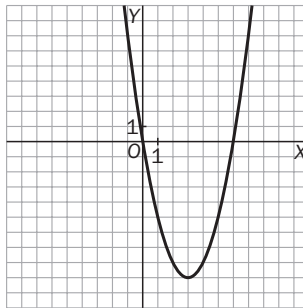
9.4. Dada la parábola  $f(x) = x^2 - 6x$ :

- a) Halla sus puntos de corte con los ejes.
- b) Calcula su vértice.
- c) Representácala gráficamente y comprueba que es cóncava hacia arriba.

a) Corte con el eje X: (0, 0) y (6, 0). Corte con el eje Y: (0, 0)

b)  $V(3, -9)$

c)



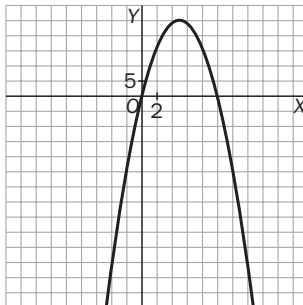
9.5. Dada la parábola  $f(x) = -x^2 + 10x$ :

- a) ¿En qué puntos su ordenada vale 9?
- b) ¿En algún punto toma el valor 30?
- c) Representácala gráficamente y confirma los resultados anteriores.

a)  $-x^2 + 10x = 9$  si  $x = 1$  o  $x = 9$

b)  $-x^2 + 10x = 30$  no tiene solución.

c)



9.6. Estudia si son pares o impares las siguientes funciones polinómicas.

a)  $f(x) = x^2 - 3x + 1$

c)  $f(x) = 3x^7 + 5x^3 - x$

b)  $f(x) = -2x^4 + x^2 + 6$

d)  $f(x) = x^8 + x^5 - 8x^2 + 12$

a)  $f(-x) = x^2 + 3x + 1 \neq f(x), -f(x)$ , luego no presenta estas simetrías.

b)  $f(-x) = -2x^4 + x^2 + 6 = f(x)$ , luego es par.

c)  $f(-x) = -3x^7 - 5x^3 + x = -f(x)$ , luego es impar.

d)  $f(-x) = x^8 - x^5 - 8x^2 + 12 \neq f(x), -f(x)$ , luego no presenta estas simetrías.

## 9.7. Esboza las gráficas de las siguientes funciones polinómicas.

a)  $f(x) = (x - 1)(x + 1)(x - 2)$

c)  $f(x) = -2x(x^2 - 3x + 2)$

b)  $f(x) = (x^2 - 4)(x + 1)$

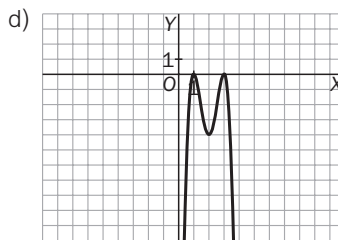
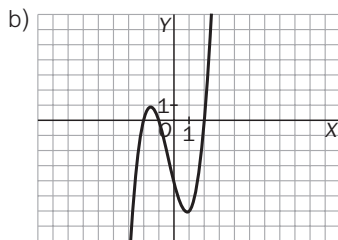
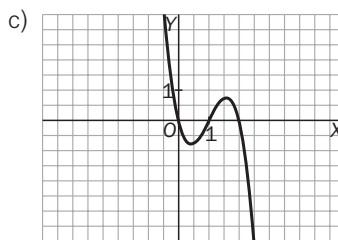
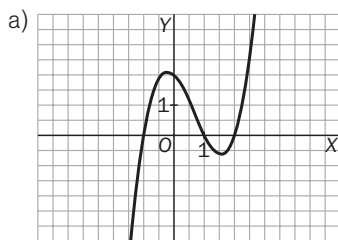
d)  $f(x) = -4(x - 1)^2(x - 3)^2$

a) Corte con Y: (0, 2). Cortes con X: (1, 0), (-1, 0), (2, 0).  $\lim_{x \rightarrow +\infty} f(x) = +\infty$ ,  $\lim_{x \rightarrow -\infty} f(x) = -\infty$   
Si  $-1 < x < 1$ ,  $f(x) > 0$ , y si  $1 < x < 2$ ,  $f(x) < 0$

b) Corte con Y: (0, -4). Cortes con X: (-2, 0), (2, 0), (-1, 0).  $\lim_{x \rightarrow +\infty} f(x) = +\infty$ ,  $\lim_{x \rightarrow -\infty} f(x) = -\infty$   
Si  $-2 < x < -1$ ,  $f(x) > 0$ , y si  $-1 < x < 2$ ,  $f(x) < 0$

c) Corte con Y: (0, 0). Cortes con X: (0, 0), (1, 0), (2, 0).  $\lim_{x \rightarrow +\infty} f(x) = -\infty$ ,  $\lim_{x \rightarrow -\infty} f(x) = +\infty$   
Si  $0 < x < 1$ ,  $f(x) < 0$ , y si  $1 < x < 2$ ,  $f(x) > 0$

d) Corte con Y: (0, -36). Cortes con X: (1, 0), (3, 0).  $\lim_{x \rightarrow +\infty} f(x) = -\infty$ ,  $\lim_{x \rightarrow -\infty} f(x) = -\infty$   
 $f(x) \leq 0$  siempre.



## 9.8. Razona cuáles de las siguientes magnitudes son directa o inversamente proporcionales.

a) x: precio en euros de ciertos artículos.

y: precio en dólares de esos mismos artículos.

b) x: velocidad que lleva un ciclista en un recorrido.

y: tiempo que tarda en completar el recorrido.

c) x: número de personas que acuden a un sorteo.

y: probabilidad de que una de ellas sea agraciada.

d) Si llevo 100 euros en el bolsillo:

x: dinero que gasto.

y: dinero que me queda.

a) Si compro  $n$  artículos y pago  $x$  euros e  $y$  dólares, si 1 dólar =  $k$  euros, entonces  $y = kx$ , por lo que  $x$  e  $y$  son directamente proporcionales.

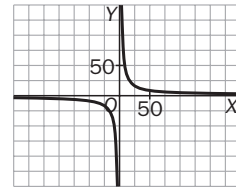
b) Como  $v = \frac{e}{t}$ , siendo  $v$  la velocidad,  $e$  el espacio recorrido y  $t$  el tiempo empleado en recorrerlo, tenemos en nuestro caso:  $x = \frac{e}{y}$ , de donde  $y = \frac{e}{x}$ , por lo que  $x$  e  $y$  son inversamente proporcionales.

c) La probabilidad de que una persona sea agraciada en un sorteo de  $n$  personas, si todas juegan lo mismo, o sea, si todas tienen igual probabilidad de ser agraciadas, es  $p = \frac{1}{n}$ , en nuestro caso:  $y = \frac{1}{x}$ , por lo que  $x$  e  $y$  son inversamente proporcionales.

d)  $y = 100 - x$ , por lo que  $x$  e  $y$  no son ni directa ni inversamente proporcionales.

9.9. Encuentra la función que relaciona la base y la altura de todos los rectángulos de área igual a 420 m<sup>2</sup> y dibuja su gráfica.

Si  $b$  es la base y  $h$  la altura, sabemos que  $bh = 420$ , o sea,  $h = \frac{420}{b}$ .

$$y = \frac{420}{x}$$


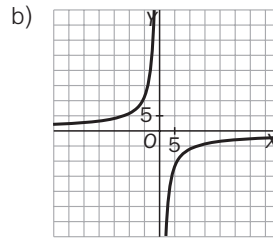
9.10. Estudia la siguiente tabla de valores:

x	-5	-2	3	10
y	12	30	-20	-6

- a) Encuentra la función que relaciona ambas variables.  
 b) Dibuja la gráfica de dicha función.  
 c) ¿Qué valor de  $y$  corresponde a  $x = 1$ ?

a) Observamos que  $xy = -60$ , entonces  $y = -\frac{60}{x}$ .

c) -60



9.11. Realiza el estudio completo de estas funciones racionales y dibuja sus gráficas.

a)  $f(x) = \frac{x-4}{x+1}$

d)  $f(x) = \frac{x}{x-1}$

g)  $f(x) = \frac{x^2+4}{x^2-9}$

b)  $f(x) = \frac{x^2+1}{x}$

e)  $f(x) = \frac{x}{x^2-1}$

h)  $f(x) = \frac{-2x}{x-1}$

c)  $f(x) = \frac{x^2-3x}{x-1}$

f)  $f(x) = \frac{x+4}{x^2-4}$

i)  $f(x) = \frac{x^3}{x+2}$

a)  $D(f) = \mathbb{R} - \{-1\}$ . Cortes con los ejes: eje Y: (0, -4); eje X: (4, 0)

Asíntotas verticales:  $x = -1$ ,  $\lim_{x \rightarrow -1^-} f(x) = +\infty$ ;  $\lim_{x \rightarrow -1^+} f(x) = -\infty$

Asíntotas horizontales:  $\lim_{x \rightarrow +\infty} f(x) = 1$

b)  $D(f) = \mathbb{R} - \{0\}$ . Cortes con los ejes: eje Y: no lo corta; eje X: tampoco.

Asíntotas verticales:  $x = 0$ ,  $\lim_{x \rightarrow 0^+} f(x) = +\infty$ ;  $\lim_{x \rightarrow 0^-} f(x) = -\infty$

Asíntotas oblicuas: el cociente de  $\frac{x^2+1}{x}$  es  $x$ , por lo que la recta  $y = x$  es asíntota oblicua.

c)  $D(f) = \mathbb{R} - \{1\}$ . Cortes con los ejes: eje Y: (0, 0); eje X: (0, 0) y (3, 0).

Asíntotas verticales:  $x = 1$ ,  $\lim_{x \rightarrow 1^-} f(x) = +\infty$ ;  $\lim_{x \rightarrow 1^+} f(x) = -\infty$

El cociente de división  $\frac{x^2-3x}{x-1}$  es  $x-2$ , por lo que la recta  $y = x-2$  es asíntota oblicua.

d)  $D(f) = \mathbb{R} - \{1\}$ . Cortes con los ejes: eje Y: (0, 0); eje X: (0, 0)

Asíntotas verticales:  $x = 1$ ,  $\lim_{x \rightarrow 1^-} f(x) = -\infty$ ;  $\lim_{x \rightarrow 1^+} f(x) = +\infty$

Asíntotas horizontales:  $y = 1$ ,  $\lim_{x \rightarrow +\infty} f(x) = 1$

e)  $D(f) = \mathbb{R} - \{1, -1\}$ . Cortes con los ejes: eje X: (0, 0); eje Y: (0, 0)

Asíntotas verticales:  $x = 1$ ,  $x = -1$ ,  $\lim_{x \rightarrow -1^-} f(x) = -\infty$ ;  $\lim_{x \rightarrow -1^+} f(x) = +\infty$ ;  $\lim_{x \rightarrow 1^-} f(x) = -\infty$ ;  $\lim_{x \rightarrow 1^+} f(x) = +\infty$

Asíntotas horizontales:  $\lim_{x \rightarrow +\infty} \frac{x}{x^2-1} = 0$ ,  $y = 0$  es asíntota horizontal.

f)  $D(f) = \mathbb{R} - \{-2, 2\}$ . Cortes con los ejes: eje Y:  $(0, -1)$ ; eje X: no hay corte.

Asíntotas verticales:  $x = -2, \lim_{x \rightarrow -2^-} f(x) = +\infty; \lim_{x \rightarrow -2^+} f(x) = -\infty. x = 2, \lim_{x \rightarrow 2^-} f(x) = -\infty; \lim_{x \rightarrow 2^+} f(x) = +\infty$

Asíntotas horizontales:  $y = 0, \lim_{x \rightarrow +\infty} f(x) = 0$

g)  $D(f) = \mathbb{R} - \{-3, 3\}$ . Cortes con los ejes: eje Y:  $(0, -\frac{4}{9})$ ; eje X: no hay corte.

Asíntotas verticales:  $x = -3, \lim_{x \rightarrow -3^-} f(x) = +\infty; \lim_{x \rightarrow -3^+} f(x) = -\infty. x = 3, \lim_{x \rightarrow 3^-} f(x) = -\infty; \lim_{x \rightarrow 3^+} f(x) = +\infty$

Asíntotas horizontales:  $\lim_{x \rightarrow +\infty} \frac{x^2 + 4}{x^2 - 9} = 1, y = 1$  es asíntota horizontal.

h)  $D(f) = \mathbb{R} - \{1\}$ . Cortes con los ejes: eje Y:  $(0, 0)$ ; eje X:  $(0, 0)$

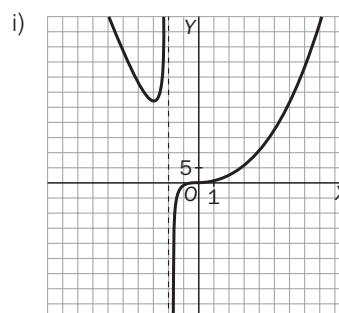
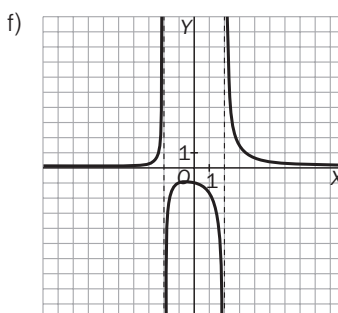
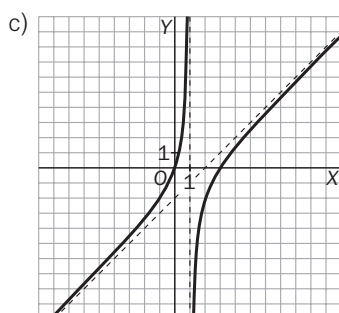
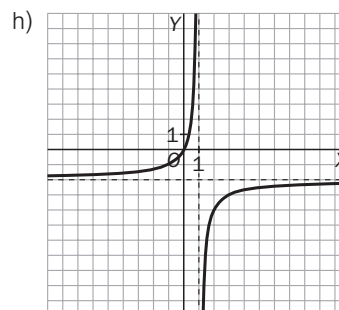
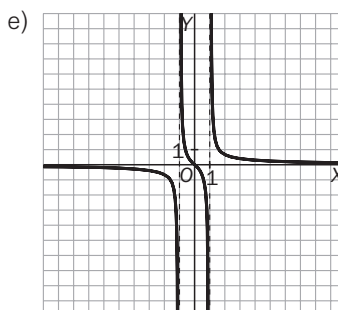
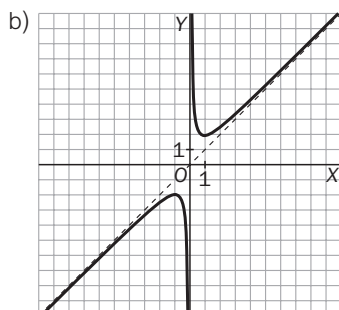
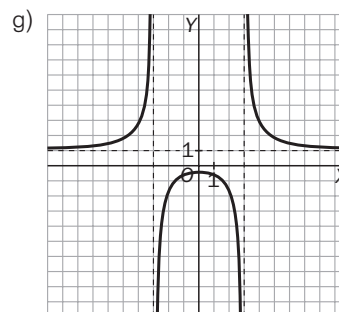
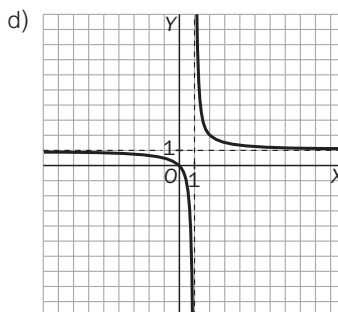
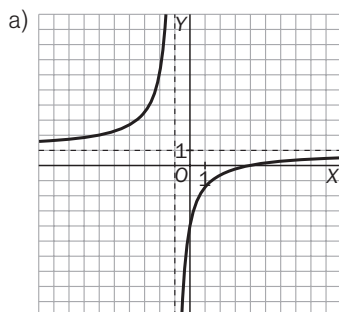
Asíntotas verticales:  $x = 1, \lim_{x \rightarrow 1^-} f(x) = +\infty; \lim_{x \rightarrow 1^+} f(x) = -\infty$

Asíntotas horizontales:  $\lim_{x \rightarrow +\infty} \frac{-2x}{x - 1} = -2, y = -2$  es asíntota horizontal.

i)  $D(f) = \mathbb{R} - \{-2\}$ . Cortes con los ejes: eje Y:  $(0, 0)$ ; eje X:  $(0, 0)$

Asíntotas verticales:  $x = -2, \lim_{x \rightarrow -2^-} f(x) = +\infty; \lim_{x \rightarrow -2^+} f(x) = -\infty$

El cociente de la división  $\frac{x^3}{x + 2}$  es  $x^2 - 2x + 4$ , por lo que no hay asíntotas oblicuas.



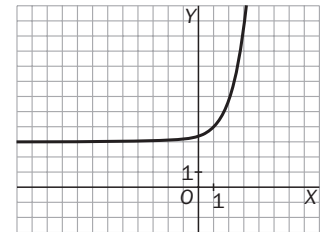
9.12. Resuelve las siguientes ecuaciones exponenciales.

- a)  $3^x = 27$       b)  $2^x = 64$       c)  $3^{x-1} = 729$       d)  $2^{x-2} = 1024$
- a)  $3^x = 3^3$ , luego  $x = 3$   
 b)  $2^x = 2^6$ , luego  $x = 6$   
 c)  $3^{x-1} = 3^6$ , luego  $x - 1 = 6$ , esto es,  $x = 7$   
 d)  $2^{x-2} = 2^{10}$ , luego  $x - 2 = 10$ , esto es,  $x = 12$

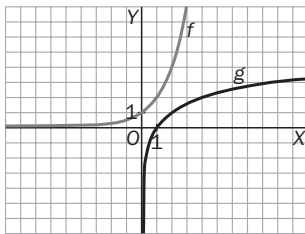
9.13. Conocida la gráfica de la función  $f(x) = e^x$ , explica de manera razonada cómo se obtiene la gráfica de  $g(x) = 3 + e^{x-1}$ .

Realiza un dibujo aproximado de la misma.

Es la gráfica de la exponencial desplazada 1 unidad a la derecha y 3 unidades hacia arriba.



9.14. Dibuja sobre los mismos ejes las gráficas de  $f(x) = 2^x$  y de  $g(x) = \log_2 x$ , y explica qué relación hay entre dichas gráficas.



Como se observa, son gráficas simétricas respecto de la bisectriz del primer cuadrante al tratarse de dos funciones inversa la una de la otra.

9.15. Escribe  $2 \ln p + \frac{1}{3} \ln q$  como un solo logaritmo.

$$2 \ln p + \frac{1}{3} \ln q = \ln p^2 + \ln \sqrt[3]{q} = \ln (p^2 \sqrt[3]{q})$$

9.16. Aparentemente, estas dos funciones parecen ser la misma:

$$f(x) = \log \left( \frac{x+1}{x} \right) \text{ y } g(x) = \log(x+1) - \log x$$

Sin embargo, hay una diferencia sustancial. ¿Cuál es?

$f(x)$  está definida si  $x < -1$  ( $x+1 < 0$  y  $x < 0$ ), y en cambio  $g(x)$ , no.

En concreto:  $D(f) = \left\{ x \in \mathbf{R} / \frac{x+1}{x} > 0 \right\}$ . Así pues,  $D(f) = (-\infty, -1) \cup (0, +\infty)$  y  $D(g) = (0, +\infty)$ , ya que si  $x < 0$ , no existe  $\log x$  y, por tanto, no existe  $g(x)$ .

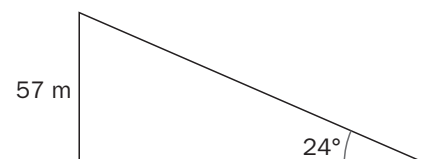
9.17. Calcula todos los lados y ángulos del siguiente triángulo rectángulo.

Sea  $\hat{A}$  el ángulo de  $24^\circ$  y  $\hat{B}$  el ángulo recto. Así  $a = 57$ .

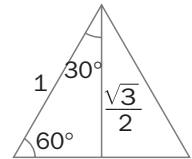
$$\text{sen } 24^\circ = \frac{57}{b}, \quad b = \frac{57}{\text{sen } 24^\circ} = 140,14 \text{ m}$$

$$\hat{C} = 90^\circ - 24^\circ = 66^\circ$$

$$\text{tg } 24^\circ = \frac{57}{c}; \quad c = \frac{57}{\text{tg } 24^\circ} = 128,02 \text{ m}$$



9.18. Ayudándote de un triángulo equilátero, calcula las razones trigonométricas de los ángulos de  $60^\circ$  y  $30^\circ$ . ¿Qué relación observas entre ellas?



Consideramos el triángulo de la figura.  
Se tiene que  $\sin 30^\circ = \cos 60^\circ = \frac{1}{2}$  y  $\cos 30^\circ = \sin 60^\circ = \frac{\sqrt{3}}{2}$ . Así  $\operatorname{tg} 30^\circ = \frac{1}{\operatorname{tg} 60^\circ} = \frac{\sqrt{3}}{3}$

9.19. A partir del  $\sin 30^\circ$  y del  $\cos 30^\circ$ , obtén las razones trigonométricas de  $120^\circ$ ,  $150^\circ$ ,  $210^\circ$ ,  $240^\circ$ ,  $300^\circ$  y  $330^\circ$ .

$\sin 120^\circ = \sin 60^\circ = \frac{\sqrt{3}}{2}$	$\cos 120^\circ = -\cos 60^\circ = -\frac{1}{2}$	$\sin 150^\circ = \sin 30^\circ = \frac{1}{2}$	$\cos 150^\circ = -\cos 30^\circ = -\frac{\sqrt{3}}{2}$
$\sin 210^\circ = -\sin 30^\circ = -\frac{1}{2}$	$\cos 210^\circ = -\cos 30^\circ = -\frac{\sqrt{3}}{2}$	$\sin 240^\circ = -\sin 60^\circ = -\frac{\sqrt{3}}{2}$	$\cos 240^\circ = \cos 60^\circ = \frac{1}{2}$
$\sin 300^\circ = \sin 60^\circ = \frac{\sqrt{3}}{2}$	$\cos 300^\circ = \cos 60^\circ = \frac{1}{2}$	$\sin 330^\circ = -\sin 30^\circ = -\frac{1}{2}$	$\cos 330^\circ = \cos 30^\circ = \frac{\sqrt{3}}{2}$

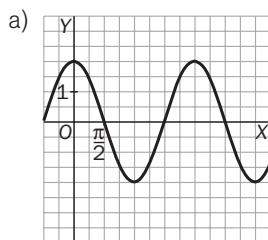
9.20. Ayudándote de un cuadrado y su diagonal, calcula las razones trigonométricas de un ángulo de  $45^\circ$ .

Tomando como unidad el lado del cuadrado, la diagonal es  $\sqrt{2}$  y  $\sin 45^\circ = \frac{1}{\sqrt{2}} = \frac{\sqrt{2}}{2}$ .

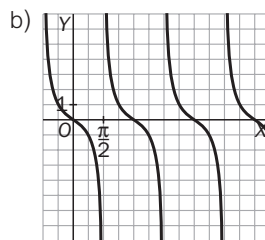
$\cos 45^\circ = \sin (90^\circ - 45^\circ) = \sin 45^\circ$ . Así  $\operatorname{tg} 45^\circ = \frac{\sin 45^\circ}{\cos 45^\circ} = 1$

9.21. (TIC) Utilizando tu calculadora, representa las gráficas de las funciones:

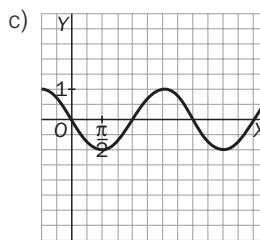
a)  $f(t) = 2 \cdot \cos t$



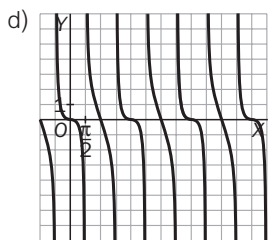
b)  $f(t) = \operatorname{tg} (\pi - t)$



c)  $f(x) = \sin (x + \pi)$

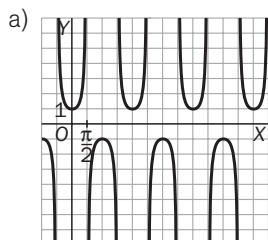


d)  $f(x) = \sin x - \operatorname{tg} x$

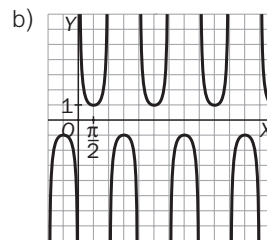


9.22. (TIC) Utilizando tu calculadora, representa las gráficas de las funciones:

a)  $f(t) = \frac{1}{\cos t}$



b)  $f(x) = \frac{1}{\sin x}$



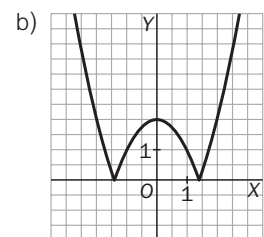
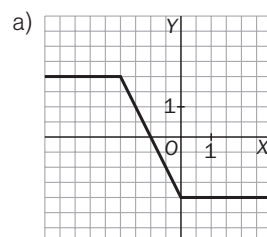
9.23. Escribe las siguientes funciones como funciones a trozos y dibuja su gráfica.

a)  $f(x) = |x| - |x + 2|$

$$f(x) = \begin{cases} 2 & \text{si } x \leq -2 \\ -2x - 2 & \text{si } -2 < x < 0 \\ -2 & \text{si } x \geq 0 \end{cases}$$

b)  $g(x) = |x^2 - 2|$

$$g(x) = \begin{cases} x^2 - 2 & \text{si } x \leq -\sqrt{2} \\ -x^2 + 2 & \text{si } -\sqrt{2} < x < \sqrt{2} \\ x^2 - 2 & \text{si } x \geq \sqrt{2} \end{cases}$$



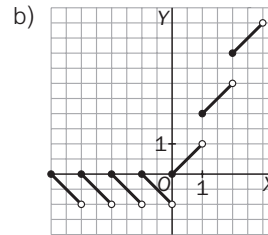
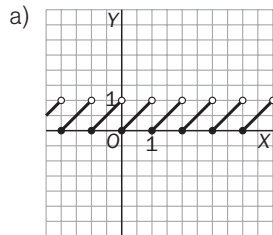
9.24. Ayudándote de una tabla de valores, representa las siguientes funciones.

a)  $f(x) = x - [x]$

b)  $g(x) = |x| + [x]$

a)	$x$	-2,5	-2	-1,5	-1	-0,5	0	0,5	1	1,5
	$x - [x]$	0,5	0	0,5	0	0,5	0	0,5	0	0,5

b)	$x$	-2,5	-2	-1,5	-1	-0,5	0	0,5	1	1,5
	$ x  + [x]$	-0,5	0	-0,5	0	-0,5	0	0,5	2	2,5



## EJERCICIOS

### Funciones polinómicas

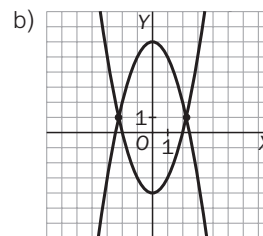
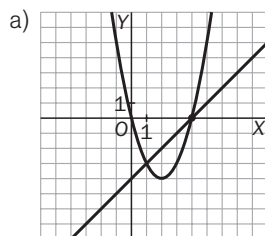
9.25. Encuentra la función lineal  $f(x) = ax + b$  que pasa por los puntos  $(2, -3)$  y  $(5, 3)$ .

Se resuelve  $\begin{cases} -3 = 2a + b \\ 3 = 5a + b \end{cases}$  cuyas soluciones son  $a = 2$  y  $b = -7 \Rightarrow f(x) = 2x - 7$

9.26. Halla gráficamente los puntos de corte de:

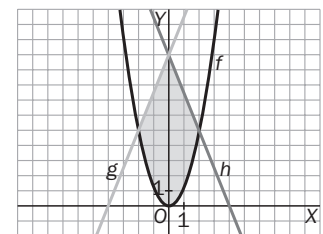
a) La recta  $y = x - 4$  con la parábola  $y = x^2 - 4x$ .

b) Las parábolas  $y = x^2 - 4$  e  $y = -x^2 + 6$ .



9.27. (TIC) Representa gráficamente la región acotada limitada por las gráficas de las funciones:

$$f(x) = \frac{5}{4}x^2, g(x) = \frac{1}{2}(5x + 20) \text{ y } h(x) = \frac{1}{2}(-5x + 20)$$



9.28. Halla la ecuación de la parábola que corta al eje vertical en  $y = 2$  y cuyo vértice es el punto  $(1, 1)$ .

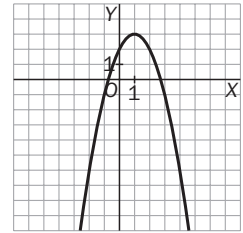
$f(x) = ax^2 + bx + c$ . Sabemos que  $f(0) = 2 = c$  y que  $f(1) = 1$ , por lo que  $a + b + 2 = 1$  y  $-\frac{b}{2a} = 1$ . Así pues,  $a + b = -1$ ,  $-b = 2a$  nos lleva a  $a = 1$ ,  $b = -2$ ,  $c = 2$ , y la parábola pedida es  $y = x^2 - 2x + 2$ .



9.29. Una parábola tiene la forma  $f(x) = ax^2 + bx + 2$ . Se sabe que el punto  $(1, 3)$  es su vértice y que pasa por el punto  $(2, 2)$ . Calcula los valores de  $a$  y  $b$  y haz su gráfica.

$f(x) = ax^2 + bx + 2$ . Sabemos que  $f(1) = 3$ , esto es,  $3 = a + b + 2$ ; que  $f(2) = 2$ , por lo que  $4a + 2b + 2 = 2$ , y que  $-\frac{b}{2a}$ . Así pues,  $a + b = 1$ ,  $-b = 2a$  nos lleva a  $a = -1$ ,  $b = 2$ .

La parábola pedida es  $y = -x^2 + 2x + 2$ .

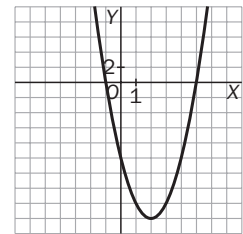


9.30. De una parábola sabemos que corta los ejes en los puntos  $(-1, 0)$ ,  $(5, 0)$  y  $(0, -10)$ . ¿Cuál es su vértice? ¿Pasa por el punto  $(3, 16)$ ?

Esboza su gráfica.

Al cortar al eje de abscisas en  $(-1, 0)$  y  $(5, 0)$ , su vértice tiene de abscisa  $\frac{5 - 1}{2} = 2$ , por lo que la parábola es  $f(x) = a(x - 2)^2 + k$ . Como  $f(5) = 0$ , es  $9a + k = 0$ , y como  $f(0) = -10$ , tenemos que  $4a + k = -10$ . Restando estas dos últimas igualdades llegamos a  $a = 2$ ,  $k = -18$ , y la parábola es:

$$y = 2(x - 2)^2 - 18 = 2x^2 - 8x - 10.$$



9.31. Haz un estudio completo (vértice, eje de simetría, puntos de corte con los ejes, concavidad) de la parábola  $f(x) = -x^2 + 2x - 3$ .

$$f(x) = -x^2 + 2x - 3$$

Corte con el eje Y:  $(0, -3)$

Cortes con el eje X:  $-x^2 + 2x - 3 = 0$ , que no tiene soluciones.

Vértice:  $(1, -2)$

Eje de simetría:  $x = 1$

Cóncava hacia abajo

9.32. Determina los puntos de corte con los ejes y el signo de las siguientes funciones.

a)  $f(x) = (x - 1)(x - 2)$

c)  $f(x) = 2(x + 2)(x - 1)^2$

b)  $f(x) = x^3 + 6x^2 - 7x$

d)  $f(x) = x^4 + 2x^2 + 1$

a) Corte con el eje X:  $(1, 0)$  y  $(2, 0)$ .

Corte con el eje Y:  $(0, 2)$

La función es positiva en  $(-\infty, 1) \cup (2, +\infty)$  y negativa en  $(1, 2)$ .

b) Corte con el eje X:  $(-7, 0)$ ,  $(0, 0)$  y  $(1, 0)$

Corte con el eje Y:  $(0, 0)$

La función es positiva en  $(-7, 0) \cup (1, +\infty)$  y negativa en el resto.

c) Corte con el eje X:  $(-2, 0)$  y  $(1, 0)$

Corte con el eje Y:  $(0, 4)$

La función es positiva en  $(-2, +\infty)$  y negativa en el resto.

d) Corte con el eje X: no tiene.

Corte con el eje Y:  $(0, 1)$

La función es positiva siempre.

9.33. Encuentra una función polinómica de grado 3 que corte el eje X en los puntos  $-4$ ,  $1$  y  $3$ .

Pasa por  $(-4, 0)$ ,  $(1, 0)$  y  $(3, 0)$ , y es de la forma  $f(x) = x^3 + ax^2 + bx + c$ . Resolviendo el sistema de las tres ecuaciones resulta:  $a = 0$ ,  $b = -13$  y  $c = 12$ .

9.34. (TIC) Realiza un estudio completo (puntos de corte con los ejes, signo, simetría y límites en el infinito) de las siguientes funciones polinómicas y esboza sus gráficas.

a)  $f(x) = x(x^2 + 2)(x^2 - 1)$

c)  $f(x) = x^6 - 9x^4 - 16x^2 + 144$

b)  $f(x) = x^4 + 3x^3 - x^2 - 3x$

d)  $f(x) = (x + 3)^2(x - 2)^2$

a) Cortes con los ejes: eje Y: (0, 0); eje X: (0, 0), (1, 0), (-1, 0)

$f(-x) = -f(x)$ : impar.  $\lim_{x \rightarrow +\infty} f(x) = +\infty$ ,  $\lim_{x \rightarrow -\infty} f(x) = -\infty$

Si  $-1 < x < 0$ ,  $f(x) > 0$ , y si  $0 < x < 1$ ,  $f(x) < 0$

b) Cortes con los ejes: eje Y: (0, 0); eje X: (0, 0), (1, 0), (-1, 0), (-3, 0)

Ni par ni impar.  $\lim_{x \rightarrow +\infty} f(x) = +\infty$ ,  $\lim_{x \rightarrow -\infty} f(x) = +\infty$

Si  $-3 < x < -1$  ó  $0 < x < 1$ ,  $f(x) < 0$ , y si  $-1 < x < 0$ ,  $f(x) > 0$

c) Cortes con los ejes: OY: (0, 144). OX: (-3, 0), (-2, 0), (2, 0), (3, 0)

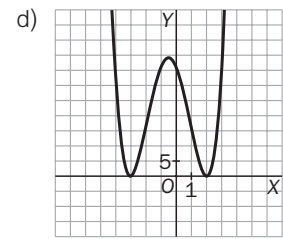
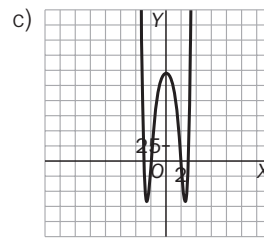
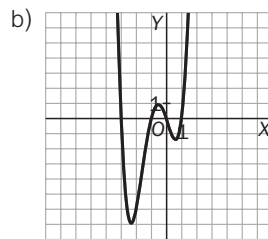
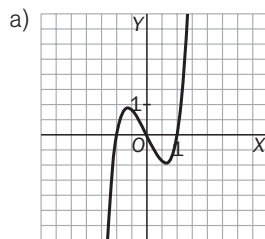
$f(-x) = f(x)$ : par.  $\lim_{x \rightarrow +\infty} f(x) = +\infty$ ,  $\lim_{x \rightarrow -\infty} f(x) = +\infty$

Si  $-3 < x < -2$  ó  $2 < x < 3$ ,  $f(x) < 0$ , y si  $-2 < x < 2$ ,  $f(x) > 0$

d) Cortes con los ejes: eje Y: (0, 36); eje X: (2, 0)

Ni par ni impar.  $\lim_{x \rightarrow -\infty} f(x) = +\infty$ ,  $\lim_{x \rightarrow +\infty} f(x) = +\infty$

Es siempre positiva.



9.35. Encuentra el valor de  $b$  para que la función  $f(x) = x^4 + bx^2$  corte tres veces el eje X. Justifica tu respuesta.

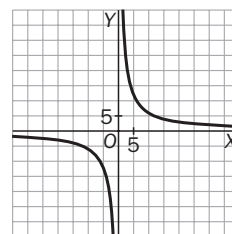
$f(x) = x^2(x^2 + b)$ . Esta función corta el eje X en el 0 y también en las soluciones de la ecuación  $x^2 + b = 0$ . Si queremos que tenga tres cortes, esta ecuación deberá tener dos soluciones, es decir,  $b$  debe ser un número negativo arbitrario.

### Funciones de proporcionalidad inversa

9.36. Escribe varias parejas de números cuyo producto sea 60 y, posteriormente, escribe una función que los relacione. Dibuja su gráfica.

x	y
1	60
2	30
-12	-5
5	12
4	15

$xy = 60; y = \frac{60}{x}$

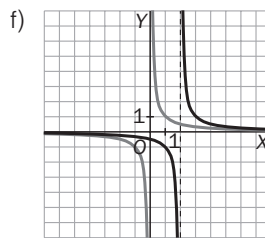
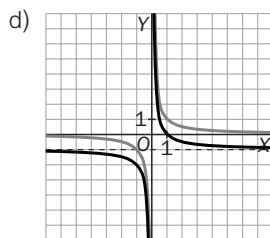
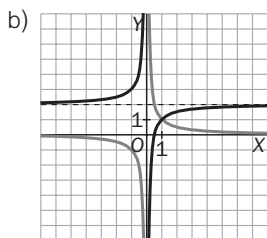
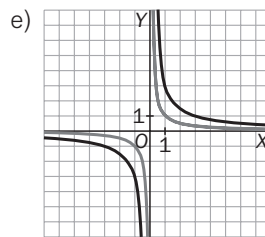
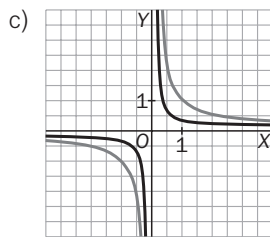
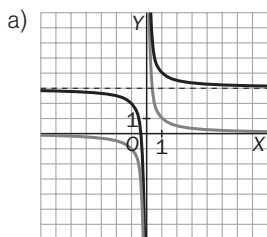


9.37. Si un ciclista tarda 6 horas en recorrer 120 km, ¿a qué velocidad media lo hace? Escribe la función que da la velocidad en función del tiempo.

$v = 20$  km/h de velocidad media.  $v(t) = \frac{e}{t}$ , donde  $e$  denota el espacio recorrido.

9.38. (TIC) Apoyándote en la gráfica de  $y = \frac{1}{x}$ , esboza las gráficas de las siguientes funciones.

a)  $y = \frac{1}{x} + 3$       b)  $y = 2 - \frac{1}{x}$       c)  $y = \frac{1}{3x}$       d)  $y = \frac{1}{x} - 1$       e)  $y = \frac{3}{x}$       f)  $y = \frac{1}{x-2}$



9.39. Un rectángulo tiene una superficie de 200 cm<sup>2</sup>.

- a) Da las dimensiones de dos posibles rectángulos que cumplan esta condición.  
 b) Si llamamos  $x$  a su base e  $y$  a su altura, expresa la altura en función de la base.

a) Base = 10 cm, y altura = 20 cm. Base = 2 cm, y altura = 100 cm.      b)  $y = \frac{200}{x}$

9.40. Una empresa ha calculado que necesita una superficie de 600 m<sup>2</sup> para almacenar sus existencias y ha decidido construir una nave rectangular para tal fin. Si llamamos  $x$  e  $y$  a los lados de dicho rectángulo, encuentra:

- a) Los valores entre los que se mueven  $x$  e  $y$ .  
 b) La función que relaciona  $y$  con  $x$ .  
 c) La función que relaciona el perímetro de la nave con el lado  $x$ .

a)  $x > 0, y > 0$       b)  $xy = 600, y = \frac{600}{x}$       c) Perímetro =  $2x + 2y = 2x + \frac{1200}{x}$

## Funciones racionales

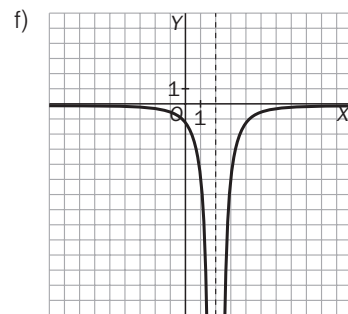
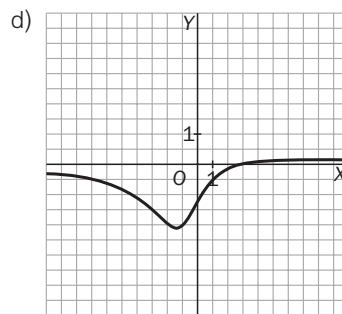
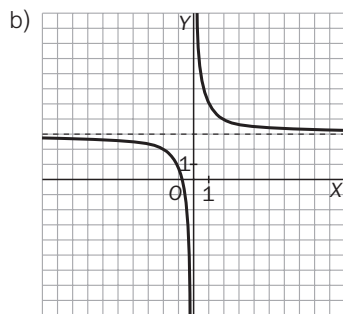
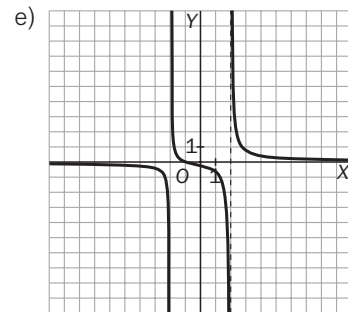
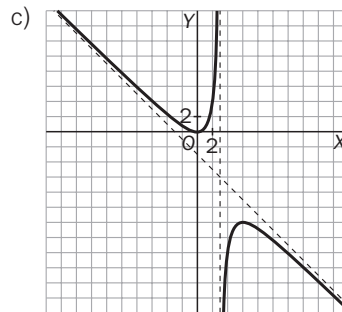
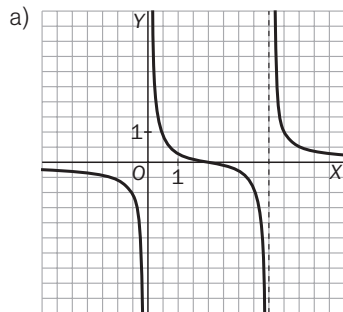
9.41. Determina el dominio, la continuidad y la posible simetría de las siguientes funciones racionales.

a)  $f(x) = \frac{x-2}{x^2-4x}$       c)  $f(x) = \frac{x^2}{3-x}$       e)  $f(x) = \frac{x^2+x}{x^3-4x}$   
 b)  $f(x) = \frac{2+3x}{x}$       d)  $f(x) = \frac{2x-6}{x^2+2x+5}$       f)  $f(x) = \frac{-5}{(x-2)^2}$

- a)  $D(f) = \mathbb{R} - \{0, 4\}$ . Continua en  $\mathbb{R} - \{0, 4\}$ .  $f(-x) \neq f(x)$ ,  $-f(x)$ , luego no presenta simetrías.  
 b)  $D(f) = \mathbb{R} - \{0\}$ . Continua en  $\mathbb{R} - \{0\}$ .  $f(-x) \neq f(x)$ ,  $-f(x)$ , luego no presenta simetrías.  
 c)  $D(f) = \mathbb{R} - \{3\}$ . Continua en  $\mathbb{R} - \{3\}$ .  $f(-x) \neq f(x)$ ,  $-f(x)$ , luego no presenta simetrías.  
 d)  $D(f) = \mathbb{R}$ . Continua en  $\mathbb{R}$ .  $f(-x) \neq f(x)$ ,  $-f(x)$ , luego no presenta simetrías.  
 e)  $D(f) = \mathbb{R} - \{-2, 0, 2\}$ . Continua en  $\mathbb{R} - \{-2, 0, 2\}$ .  $f(-x) \neq f(x)$ ,  $-f(x)$ , luego no presenta simetrías.  
 f)  $D(f) = \mathbb{R} - \{2\}$ . Continua en  $\mathbb{R} - \{2\}$ .  $f(-x) \neq f(x)$ ,  $-f(x)$ , luego no presenta simetrías.

9.42. (TIC) Halla los puntos de corte de las funciones anteriores con los ejes de coordenadas y su signo. Indica también, para cada una de ellas, si tiene asíntotas verticales, horizontales u oblicuas y esboza sus gráficas.

- a) Corte con el eje X: (2, 0). Eje Y: no corta.  $f$  es positiva en  $(0, 2) \cup (4, +\infty)$ . Negativa en el resto.  
Asíntotas verticales en  $x = 0$  y  $x = 4$ . Asíntota horizontal en  $y = 0$ . No tiene asíntotas oblicuas.
- b) Corte eje X:  $(\frac{-2}{3}, 0)$ . Eje Y: no corta.  $f$  positiva en  $(-\infty, \frac{-2}{3}) \cup (0, +\infty)$ . Negativa en el resto.  
Asíntotas verticales en  $x = 0$ . Asíntota horizontal en  $y = 3$ . No tiene asíntotas oblicuas.
- c) Corte con el eje X: (0, 0). Eje Y: (0, 0).  $f$  es positiva en  $(-\infty, 0) \cup (3, +\infty)$ . Negativa en el resto.  
Asíntotas verticales en  $x = 3$ . No tiene asíntota horizontal. Asíntota oblicua:  $y = -x - 3$ .
- d) Corte eje X: (3, 0). Corte con el eje Y:  $(0, \frac{-6}{5})$ .  $f$  es positiva en  $(3, +\infty)$ . Negativa en el resto.  
No tiene asíntotas verticales. Asíntota horizontal en  $y = 0$ . No tiene asíntotas oblicuas.
- e) Corte con el eje X: (0, 0), (-1, 0). Eje Y: no corta.  $f$  positiva en  $(-2, -1) \cup (2, +\infty)$ . Negativa en el resto.  
Asíntotas verticales en  $x = -2$ ,  $x = 2$ . Asíntota horizontal en  $y = 0$ . No tiene asíntotas oblicuas.
- f) Corte con el eje X: no corta. Eje Y:  $(0, \frac{-5}{4})$ .  $f$  es siempre negativa.  
Asíntotas verticales en  $x = 2$ . Asíntota horizontal en  $y = 0$ .



9.43. Calcula el dominio, los puntos de corte con los ejes y el signo de las siguientes funciones.

a)  $f(x) = \frac{x(x^2 - 9)}{(x + 1)(x - 1)}$     b)  $f(x) = \frac{(x - 1)(x^2 + 9)}{3(x^2 + 1)}$     c)  $f(x) = \frac{x(x - 5)^2}{(x + 1)^2(x - 1)}$     d)  $f(x) = \frac{x^2 - 4x + 3}{x^3 + x^2 + x}$

- a)  $D(f) = \mathbb{R} - \{1, -1\}$ . Corte con el eje Y: (0, 0). Cortes con el eje X: (0, 0), (3, 0), (-3, 0)  
Si  $x < -3$ : negativo. Si  $-3 < x < -1$ : positivo. Si  $-1 < x < 0$ : negativo. Si  $0 < x < 1$ : positivo.  
Si  $1 < x < 3$ : negativo. Si  $3 < x$ : positivo.
- b)  $D(f) = \mathbb{R}$ . Cortes con los ejes: eje Y: (0, -3); eje X: (1, 0)  
Si  $x < 1$ ,  $f(x) < 0$ . Si  $x > 1$ ,  $f(x) > 0$ .
- c)  $D(f) = \mathbb{R} - \{-1, 1\}$ . Cortes con los ejes: eje Y: (0, 0); eje X: (0, 0), (5, 0)  
Si  $x < 0$ : positivo. Si  $0 < x < 1$ : negativo. Si  $1 < x$ : positivo.
- d)  $D(f) = \mathbb{R} - \{0\}$ . Cortes con los ejes: eje Y: no está en el dominio; eje X: (1, 0), (3, 0)  
La función es positiva en  $(0, 1) \cup (3, +\infty)$  y negativa en el resto.

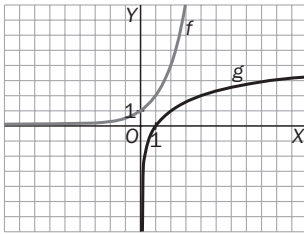
9.44. Se ha comprobado empíricamente que las ganancias que obtiene un casino en la ruleta dependen del tiempo que se esté jugando a través de la expresión:  $G(t) = \frac{10000t}{t^2 + 40000}$ , donde  $t$  representa el tiempo de juego en minutos, y  $G(t)$ , las ganancias en miles de euros. Demuestra que en este juego, el casino siempre obtiene ganancias.

¿Qué ganancias obtiene el casino si la ruleta está ocupada durante media hora?

Como  $x > 0$ ,  $G(x) > 0$ .  $G(30) = \frac{10000 \cdot 30}{30^2 + 40000} = \frac{300000}{40900} \approx 74000$  euros

## Funciones exponenciales

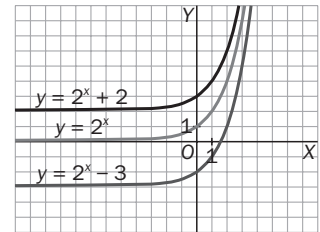
9.45. (TIC) Ayudándote de tu calculadora, representa sobre los mismos ejes las gráficas de las funciones  $f(x) = 2^x$  y  $g(x) = \left(\frac{1}{2}\right)^x$ . ¿Qué observas?



Sus gráficas son simétricas respecto del eje Y como es de esperar, pues

$$g(x) = \left(\frac{1}{2}\right)^x = 2^{-x} = f(-x).$$

9.46. (TIC) La gráfica de la función  $y = a^x + k$  es idéntica a la de la función  $y = a^x$ , pero trasladada  $k$  unidades hacia arriba si  $k > 0$ , o  $k$  unidades hacia abajo si  $k < 0$ . Compruébalo para las funciones  $y = 2^x$ ,  $y = 2^x - 3$  e  $y = 2^x + 2$ .



9.47. (TIC) Con la ayuda de una calculadora, representa la función  $g(x) = 2^x$ , y sobre los mismos ejes, representa las siguientes funciones.

a)  $f(x) = 2^{x-3}$

c)  $f(x) = 2^{x-2} + 3$

e)  $f(x) = 2^{x+1}$

b)  $f(x) = 2^x - 1$

d)  $f(x) = 2^x + 2$

f)  $f(x) = 2^{x-1} - 2$

Indica, en cada caso, qué desplazamiento transforma la función  $g$  en  $f$ .

a) 3 unidades a la derecha.

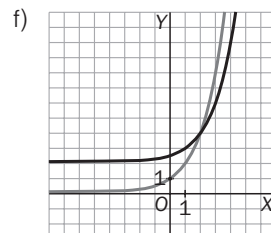
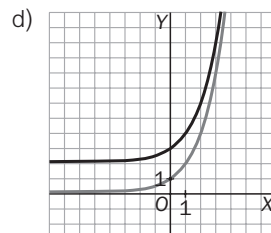
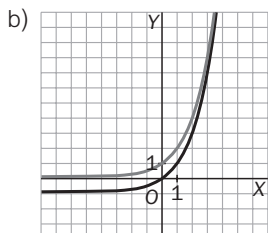
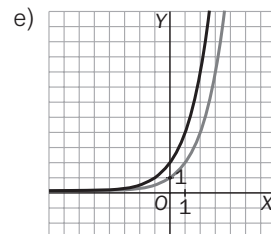
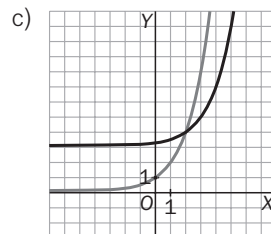
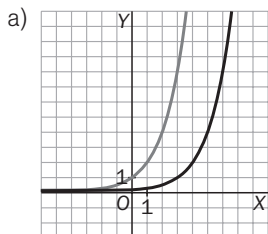
d) 2 unidades hacia arriba.

b) 1 unidad hacia abajo.

e) 1 unidad hacia la izquierda.

c) 2 unidades a la derecha y 3 hacia arriba.

f) 1 unidad a la derecha y bajamos 2.

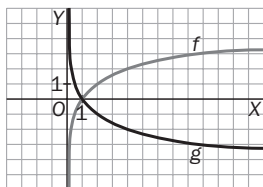




9.53. Resuelve las siguientes ecuaciones.

- a)  $\log x = 4$                       b)  $x \log 3 = 2 \log 6$                       c)  $12 - \log(3x) = 0$                       d)  $\log x^2 - \log x = 4$
- a)  $x = 10^4$                       b)  $x = \log_3 36$                       c)  $x = \frac{10^{12}}{3}$                       d)  $x = 10^4$

9.54. (TIC) Usando la calculadora, representa sobre los mismos ejes las gráficas de las funciones  $f(x) = \log_2 x$  y  $g(x) = \log_{\frac{1}{2}} x$ . ¿Qué observas?



Observamos que dichas gráficas son simétricas respecto del eje OX.

Si  $\log_{\frac{1}{2}} x = t$ , entonces  $\left(\frac{1}{2}\right)^t = x$ , es decir,  $2^{-t} = x$ , o sea,  $-t = \log_2 x$ , por lo que  $f(x) = \log_2 x = -\log_{\frac{1}{2}} x = -g(x)$

9.55. Las conclusiones de un estudio establecen que el número de individuos de una determinada población de una especie protegida vendrá dado, en los próximos años, por la siguiente función:

$$f(t) = 100 \log \left( \frac{1000t + 100}{t + 10} \right)$$

siendo  $t$  el número de años transcurridos.

- a) ¿Cuál es el tamaño actual de la población?  
 b) Si esta función fuese válida indefinidamente, ¿se estabilizaría el tamaño de la población? ¿En qué valor?
- a) Para  $t = 0$ ,  $f(0) = 100 \log 10 = 100$  individuos  
 b)  $\lim_{x \rightarrow +\infty} f(t) = 100 \log 1000 = 300$  individuos, luego sí tiende a estabilizarse en ese valor.

9.56\*. Ya sabemos que la función que proporciona el capital acumulado en un banco a interés compuesto es  $C = C_0 \cdot (1 + i)^t$ , donde  $C_0$  es el capital inicial ingresado,  $i$  es el tanto por uno del interés,  $t$  son los años transcurridos y  $C$  es el capital final al cabo de esos  $t$  años.

Encuentra la expresión de la función que nos muestra el tiempo  $t$  que se necesita para que un capital  $C_0$  se convierta en  $C$ .

$$\frac{C}{C_0} = (1 + i)^t \rightarrow \log \frac{C}{C_0} = t \cdot \log(1 + i) \rightarrow t = \frac{\log C - \log C_0}{\log(1 + i)}$$

9.57. Un inversor ingresa en un banco 900 euros al 5% de interés compuesto. ¿Cuándo alcanzará los 1500 euros?

$$1500 = 900(1 + 0,05)^t \rightarrow \frac{5}{3} = 1,05^t \rightarrow t = \frac{\log 5 - \log 3}{\log 1,05} = 10,47 \text{ años}$$

## Funciones trigonométricas

9.58. Utilizando tu calculadora en el modo radianes, halla:

- a)  $\sin 1$                       c)  $\operatorname{tg} 1,5$                       e)  $\cos(-3)$                       g)  $\sin\left(\frac{2\pi}{3}\right)$                       i)  $\operatorname{tg}(1,5 + \pi)$
- b)  $\cos\left(\frac{\pi}{4}\right)$                       d)  $\sin 2$                       f)  $\operatorname{tg}\left(\frac{\pi}{4}\right)$                       h)  $\cos\left(\frac{5\pi}{2}\right)$
- a) 0,84                      c) 14,1                      e) -0,99                      g) 0,87                      i) 14,1
- b) 0,71                      d) 0,91                      f) 1                      h) 0

9.59. Si se sabe que  $\sin x = 0,4$  y que  $x$  está en el I cuadrante, calcula, utilizando las relaciones trigonométricas,  $\cos x$  y  $\operatorname{tg} x$ .

$$0,4^2 + \cos^2 x = 1 \rightarrow \cos x = +0,92 \text{ por estar en el I cuadrante, } \operatorname{tg} x = \frac{\sin x}{\cos x} = 0,43.$$

9.60. Calcula  $\sin x$  y  $\cos x$ , sabiendo que  $\operatorname{tg} x = 3$  y que  $x$  está en el III cuadrante.

$$1 + 3^2 = \sec^2 x \rightarrow \cos x = -0,32 \text{ (III cuadrante); } \sin^2 x + (-0,32)^2 = 1 \rightarrow \sin x = -0,95$$

9.61. Halla  $\sin x$  y  $\operatorname{tg} x$  si se sabe que  $\cos x = -0,4$  y que  $x$  pertenece al II cuadrante.

$$\sin^2 x + (-0,4)^2 = 1 \rightarrow \sin x = +0,92 \text{ por estar en el II cuadrante; } \operatorname{tg} x = -0,43.$$

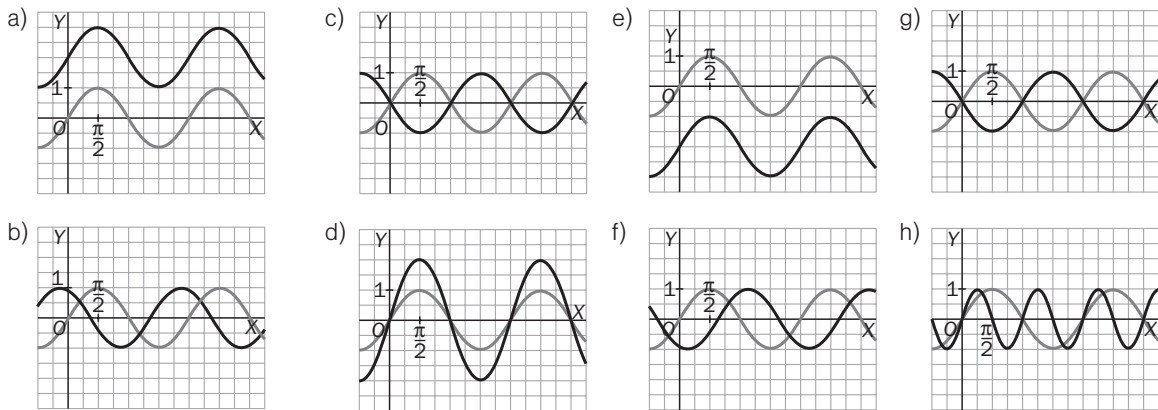
9.62. Usa la calculadora para resolver:

- a)  $\sin x = 0,5$                       b)  $\cos x = -0,65$                       c)  $\operatorname{tg} x = 4$   
 a)  $30^\circ$                                   b)  $130,54^\circ = 130^\circ 32' 29''$                       c)  $75,96^\circ = 75^\circ 57' 49''$

9.63. (TIC) Utilizando la calculadora, representa las gráficas de las siguientes funciones.

- a)  $f(x) = \sin x + 2$                       c)  $f(x) = -\sin x$                       e)  $f(x) = \sin x - 2$                       g)  $f(x) = \sin(-x)$   
 b)  $f(x) = \sin(x + 2)$                       d)  $f(x) = 2 \sin x$                       f)  $f(x) = \sin(x - 2)$                       h)  $f(x) = \sin(2x)$

A continuación, indica cuál es el desplazamiento u operación que transforma la función  $g(x) = \sin x$  en cada una de las anteriores.



- a) 2 unidades hacia arriba.                      e) 2 unidades hacia abajo.  
 b) 2 unidades a la izquierda.                      f) 2 unidades a la derecha.  
 c) Simétrica respecto del eje OY.                      g) Simétrica x respecto del eje OX.  
 d) Multiplicamos las ordenadas por 2.                      h) Comprimir a la mitad horizontalmente.

9.64. (TIC) Estudia los dominios y los recorridos de las siguientes funciones, y después, ayudándote de la calculadora, estudia sus gráficas señalando sus puntos de corte con el eje X y sus periodos.

- a)  $f(x) = \sin(3x)$                       b)  $f(x) = \operatorname{tg}\left(\frac{x}{2}\right)$                       c)  $f(x) = 5 \cos x$                       d)  $f(x) = 2 + 4 \cos\left(\frac{x}{4}\right)$

- a)  $D(f) = \mathbb{R}$ .  $R(f) = [-1, 1]$ . Cortes con el eje X:  $3x = k\pi$  con  $k$  entero.  $x = \frac{k\pi}{3}$ . Período =  $\frac{2\pi}{3}$   
 b)  $D(f) = \mathbb{R} - \{(2k + 1)\pi, k \in \mathbb{Z}\}$ .  $R(f) = \mathbb{R}$ . Cortes con el eje X:  $x = 2k\pi$  con  $k \in \mathbb{Z}$ . Período =  $2\pi$   
 c)  $D(f) = \mathbb{R}$ .  $R(f) = [-5, 5]$ . Cortes con el eje X:  $x = (2k + 1)\frac{\pi}{2}$  con  $k$  entero. Período =  $2\pi$   
 d)  $D(f) = \mathbb{R}$ .  $R(f) = [-2, 6]$ . Cortes OX:  $x = \frac{8\pi}{3} + 8k\pi$ ,  $x = \frac{16\pi}{3} + 8k\pi$ , con  $k \in \mathbb{Z}$ . Período =  $8\pi$

### Funciones valor absoluto y parte entera

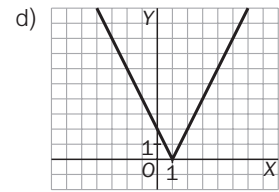
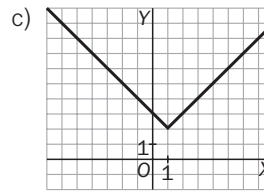
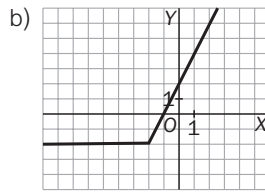
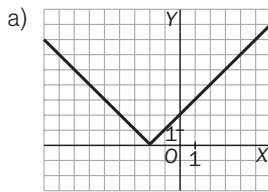
9.65. (TIC) Expresa como funciones definidas a trozos y representa gráficamente cada una de las siguientes funciones.

- a)  $f(x) = |x + 2|$                       b)  $f(x) = |x + 2| + x$                       c)  $f(x) = |x - 1| + 2$                       d)  $f(x) = 2|x - 1|$   
 a)  $f(x) = \begin{cases} -x - 2 & \text{si } x \leq -2 \\ x + 2 & \text{si } x > -2 \end{cases}$                       c)  $f(x) = \begin{cases} -x + 1 + 2 = -x + 3 & \text{si } x \leq 1 \\ x - 1 + 2 = x + 1 & \text{si } x > 1 \end{cases}$



$$b) f(x) = \begin{cases} -x - 2 + x = -2 & \text{si } x \leq -2 \\ x + 2 + x = 2x + 2 & \text{si } x > -2 \end{cases}$$

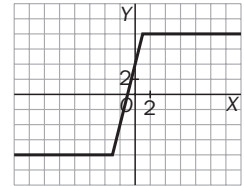
$$d) f(x) = \begin{cases} 2(-x + 1) = -2x + 2 & \text{si } x \leq 1 \\ 2(x - 1) = 2x - 2 & \text{si } x > 1 \end{cases}$$



9.66. (TIC) Dada la función  $f(x) = |2x + 6| - 2 \cdot |x - 1|$ , exprésala como una función definida a trozos y representa su gráfica.

$$f(x) = |2x + 6| - 2|x - 1| = 2|x + 3| - 2|x - 1| = 2(|x + 3| - |x - 1|)$$

$$f(x) = \begin{cases} -2(x + 3) + 2(x - 1) & \text{si } x < -3 \\ 2(x + 3) + 2(x - 1) & \text{si } -3 \leq x < 1 \\ 2(x + 3) - 2(x - 1) & \text{si } 1 \leq x \end{cases} = \begin{cases} -8 & \text{si } x < -3 \\ 4x + 4 & \text{si } -3 \leq x < 1 \\ 8 & \text{si } 1 \leq x \end{cases}$$



9.67. Las tarifas de estacionamiento en un aparcamiento se rigen según esta tabla:

Horas	[0, 1)	[1, 2)	[2, 3)	[3, 4)	[4, 5)
Precio (€)	5	7	9	11	13

Encuentra la función que relaciona las horas de estacionamiento con el coste del mismo.

Observando que los números 5, 7, 9, 11, 13 están en progresión aritmética de diferencia 2, podemos escribir  $f(t) = 2n + 5$  si  $n \leq t < n + 1$ , es decir:  $f(t) = 2[t] + 5$ .

## Aplicaciones de las funciones

9.68. La evolución de la población, en miles de habitantes, de una ciudad europea ha sido:

Año	1960	1970	1980	1990	2000
Población	150	180	215	260	310

- Encuentra una función modelo que refleje la variación de la población con el tiempo.
- Ayudándote de esa función, ¿cuál es la previsión para la población en el año 2010?
- Si el censo no se hizo en 1940, a causa de la II Guerra Mundial, ¿qué población se estima que hubo en dicho año?

a) Como  $\frac{180\,000}{150\,000} \approx \frac{215\,000}{180\,000} \approx \frac{260\,000}{215\,000} \approx \frac{310\,000}{260\,000}$ , es  $P(t) = P_0 \cdot a^t \rightarrow P(t) = 150\,000 \cdot 1,2^t$   
 ( $t = 0$  es el año 1960;  $t = 1$ , 1970;  $t = 2$ , 1980, etc.)

b) Año 2010  $\rightarrow P(5) = 373\,248$  personas      c) Año 1940  $\rightarrow P(-2) = 104\,166$  personas

## PROBLEMAS

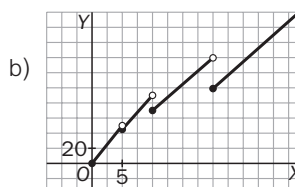
9.69. (PAU) Cierta artículo se vende a un precio u otro según la cantidad comprada, de acuerdo con los siguientes datos:

- a 10 euros el kg si  $0 \leq x < 5$
- a 9 euros el kg si  $5 \leq x < 10$
- a 7 euros el kg si  $10 \leq x < 20$
- a 5 euros el kg si  $20 \leq x$

donde  $x$  es el peso de lo comprado en kg.

- Escribe la función que representa el precio del artículo.
- Haz su representación gráfica.
- Estudia su continuidad.

$$a) f(x) = \begin{cases} 10x & \text{si } 0 \leq x < 5 \\ 9x & \text{si } 5 \leq x < 10 \\ 7x & \text{si } 10 \leq x < 20 \\ 5x & \text{si } 20 \leq x \end{cases}$$



c) Continua en  $\mathbb{R} - \{5, 10, 20\}$

9.70. (PAU) Una discoteca abre sus puertas a las diez de la noche sin ningún cliente y las cierra cuando se han marchado todos. Se supone que la función que representa el número de clientes ( $N$ ) en función del número de horas que lleva abierto,  $t$ , es:  $N(t) = 80t - 10t^2$ .

- a) Determina cuál es el máximo número de clientes y a qué hora se produce.  
 b) ¿A qué hora cerrará la discoteca?

a) El máximo son 160 clientes a las 4 horas (2:00).      b) Cerrará a las 8 horas (6:00).

9.71. (PAU) En un hospital, el número  $N$  de personas afectadas por cierta infección vírica, después de  $t$  semanas, viene dado por la función:  $N(t) = \frac{350t}{2t^2 + kt + 8}$ , siendo  $t \geq 0$ .

- a) Halla el valor de  $k$  si al cabo de una semana había 50 personas afectadas.  
 b) El médico jefe ha afirmado que la enfermedad remitirá conforme pase el tiempo. Justifica esta afirmación.

a)  $\frac{350}{10 + k} = 50 \rightarrow k = -3$

b) Como  $\lim_{t \rightarrow +\infty} \frac{350t}{2t^2 - 3t + 8} = 0$ , es cierto.

9.72. Los beneficios que obtiene un pequeño negocio familiar por la venta de su artículo estrella siguen la función  $B(x) = 1000\left(\frac{x}{10} - \frac{x^2}{100}\right)$ , donde  $x$  representa el precio de venta al público en euros del artículo, y  $B(x)$  expresa los beneficios en euros. Determina el precio de venta al que deben ofrecer su artículo para que los beneficios sean máximos. ¿Cuál es este beneficio máximo?

El precio de venta debe ser de 5 € para que el beneficio máximo sea de 250 €.

9.73. (PAU) La emisión de gases contaminantes, en toneladas, en una gran industria durante las 10 horas de actividad diaria viene dada por la expresión  $n(t) = \frac{t}{8}(20 - 2t)$  con  $0 \leq t \leq 10$  el tiempo en horas.

- a) ¿Cuál es el nivel máximo de las emisiones? ¿Cuándo se produce? ¿En qué intervalos aumenta o disminuye dicho nivel?  
 b) ¿En qué momentos el nivel es de cuatro toneladas?

a) El nivel máximo es de 6,25 toneladas a las 5 horas. Aumenta en (0, 5) y disminuye en (5, 10).

b)  $n(t) = 4$  cuando  $t = 2$  y  $t = 8$ .

9.74. La población de bacterias que crece en un cultivo es función del tiempo  $t$  transcurrido en minutos, y está dada por:  $N(t) = \frac{10^9}{1 + 10^4 \cdot e^{-t}}$ .

- a) ¿Qué población hay en el instante  $t = 0$ , momento en el que se inicia el estudio?  
 b) Comprueba que la población es siempre positiva y demuestra que crece con  $t$ .  
 c) Al transcurrir el tiempo, ¿hacia qué valor tiende a estabilizarse la población?

a)  $N(0) \approx 10^5$  bacterias

b) Al mantenerse constante el numerador, la fracción será mayor.

c)  $\lim_{t \rightarrow +\infty} N(t) = 10^9$  bacterias

9.75. El número de espectadores, en miles, que ven hasta el final un programa de televisión decrece en función del tiempo de las pausas publicitarias, según los datos de la tabla.

Tiempo anuncios (min)	0	1	2	3
N.º de telespectadores	200	143	102	72,9

- a) Encuentra la función modelo que se ajusta a dicha situación.  
 b) Halla el máximo tiempo de anuncios que se puede incluir en la emisión si el programa es viable siempre que tenga un mínimo de 38 000 espectadores.

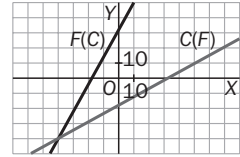
a) Como  $\frac{1\,430\,000}{200\,000} \approx \frac{102\,000}{143\,000} \approx \frac{72\,900}{102\,000} \approx 0,71$ , es  $N(t) = N_0 \cdot a^t \rightarrow N(t) = 200\,000 \cdot 0,71^t$

b)  $38\,000 = 200\,000 \cdot 0,71^t \Leftrightarrow 0,71^t = 0,19 \Leftrightarrow t = 4,85$  minutos

9.76. Las escalas de temperatura en grados Celsius (C) y Fahrenheit (F) se relacionan según esta sencilla función lineal:  $C(F) = \frac{5}{9}(F - 32)$ .

- a) ¿Cuántos grados Celsius son 41 °F?
- b) ¿Cuántos grados Fahrenheit son -3 °C?
- c) Halla la función que permite cambiar de Celsius a Fahrenheit, es decir, la función  $F(C)$  inversa de  $C(F)$ , y representa juntas ambas funciones, calculando sus puntos de corte con los ejes.

- a)  $C(41) = 5\text{ °C}$       b)  $-3 = \frac{5}{9}(F - 32) \rightarrow F = 26,6\text{ °F}$
- c) Corte con el eje C:  $(0, -\frac{160}{9})$ . Corte F:  $(32, 0)$ .  $F(C) = \frac{9}{5}C + 32$ .



9.77. Un joven es contratado por una compañía telefónica como vendedor. Debe elegir entre dos tipos de retribución:

- A: un sueldo fijo de 420 euros más el 14% de las ventas que consiga.
- B: un 26% de las ventas que consiga.
- a) Encuentra dos funciones que aclaren al joven cómo se comporta cada uno de los sueldos dependiendo de lo que venda.
- b) Según el volumen de ventas que realice, ¿cuál de los dos sueldos es más ventajoso?
- a) Si las ventas que hace ascienden a  $x$  euros, los sueldos serán:  $A = 420 + 0,14x$  y  $B = 0,26x$ .
- b)  $420 + 0,14x = 0,26x \rightarrow x = 3500\text{ €}$  → si el volumen supera los 3500 €, es más ventajoso el B.

9.78. Las tarifas postales de una empresa de envíos urgentes aparecen en la siguiente tabla:

Paquetes postales hasta 3 kg (incluido)	5 €
Por cda kg de más o fracción	2 €
Peso límite de un paquete postal	10 kg

- a) ¿Cuánto costará enviar un paquete de 2,5 kg? ¿Y uno de 5,6 kg? ¿Y otro de 9,5 kg?
- b) ¿Cuánto pesa un paquete si hemos pagado 13 euros por su envío?
- c) Encuentra una función definida a trozos que resuma estas tarifas.
- a) Un paquete de 2,5 kg costará 5 € enviarlo.  
Si el paquete es de 5,6 kg, al ser  $5,6 = 3 + 2,6$ , su precio de envío será de  $5 + 3 \cdot 2 = 11\text{ €}$ .  
En el caso de 9,5 kg, como  $9,5 = 3 + 6,5$ , su precio será de  $5 + 7 \cdot 2 = 19\text{ €}$ .
- b)  $13 = 3 + 5 \cdot 2$ , por lo que nuestro paquete tendrá un peso mayor que 7 kg, pero menor o igual que 8 kg.
- c) Si un paquete pesa  $x$  kg, el precio de envío será:

$$P(x) = \begin{cases} 5 & \text{si } x \leq 3 \\ 5 + 2(x - 3) & \text{si } 3 < x \leq 10, x \text{ es entero} \\ 5 + 2([x - 3] + 1) & \text{si } 3 < x \leq 10, x \text{ no es entero} \end{cases}$$

### PARA PROFUNDIZAR

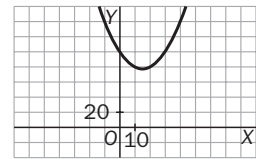
9.79. Se ha realizado un estudio de mercado de cierto producto y se ha obtenido que la curva de oferta del mismo viene dada por la función  $y = 0,7x + 8$ , y la curva de demanda, por  $y = 1,3x - 4$ . En dichas funciones,  $x$  representa el precio por unidad en euros, e  $y$ , los miles de unidades vendidas. El punto de equilibrio al que tiende ese producto en el mercado es el punto de corte de ambas funciones. Calcula cuál debe ser el precio unitario del producto y las unidades vendidas en el punto de equilibrio.

$y = 0,7x + 8$  e  $y = 1,3x - 4$ , así que  $0 = 0,6x - 12$ , por lo que  $x = \frac{12}{0,6} = 20$ .

Así que el precio unitario del producto es de 20 €, y el número de unidades vendidas en el punto de equilibrio es  $y = 0,7 \cdot 20 + 8 = 22$ .

9.80. Durante 31 días consecutivos, las acciones de la compañía A han tenido una cotización dada por la función  $C_A(x) = 0,1x^2 - 3x + 100$ , donde  $x$  es el número de días transcurridos.

- a) Haz un estudio completo de dicha función y dibuja su gráfica.  
 b) ¿Cuáles han sido las cotizaciones máxima y mínima de la compañía? ¿En qué días se consiguieron?  
 c) ¿Durante qué período de tiempo las acciones estuvieron al alza? ¿Y a la baja?



- a) Segmento de parábola.  $V(15; 77,5)$ . No corta al eje  $X$ .  
 b)  $C_A(0) = C_A(30) = 100$ ,  $C_A(15) = 77,5 \rightarrow$  Máx = 100, mín = 77,5.  
 c) Al alza entre los días  $16.^\circ$  y  $31.^\circ$ , y a la baja en la primera mitad.

9.81. ¿Existe alguna función polinómica de grado impar que no corte al eje  $X$ ? Si es así, da un ejemplo; si no existe, justifica tu respuesta.

Como el signo de  $\lim_{x \rightarrow -\infty} P(x)$  es distinto del de  $\lim_{x \rightarrow +\infty} P(x)$ , debe tener al menos una raíz real.

9.82. ¿Cuánto tiene que valer  $c$  para que  $f(x) = x^4 - 2x^2 + c$  no corte al eje  $X$ ? ¿Y para que lo corte al menos dos veces?

Depende del discriminante: 1.º:  $4 - 4c < 0$ ,  $c > 1$ . 2.º:  $4 - 4c \geq 0$ ,  $c \leq 1$ .

9.83. (PAU) En un determinado modelo de coche, el consumo de gasolina, para velocidades comprendidas entre 20 y 160 km/h, viene determinado por la función:  $C(x) = 8 - 0,045x + 0,00025x^2$ .

$C(x)$  viene expresado en litros consumidos cada 100 km, recorridos a una velocidad de  $x$  km/h.

- a) ¿Cuántos litros cada 100 km consume el coche si se conduce a una velocidad de 120 km/h?  
 b) ¿A qué velocidad consume menos y cuánto consume?  
 c) ¿A qué velocidades se ha de conducir para consumir 10 litros cada 100 km?

- a)  $C(120) = 6,2$  litros      b) A 90 km/h consume 5,975 litros      c)  $x = 216,8$  km/h

9.84. (TIC) Expresa como funciones definidas a trozos y representa gráficamente las siguientes funciones.

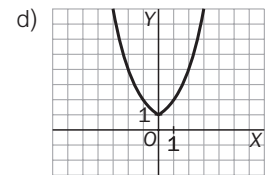
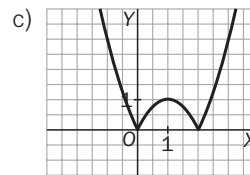
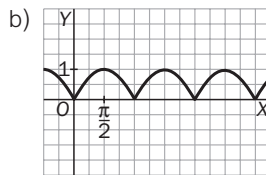
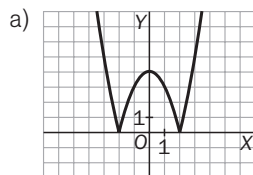
- a)  $f(x) = |x^2 - 4|$       b)  $f(x) = |\sin x|$       c)  $f(x) = |-x^2 + 2x|$       d)  $f(x) = 2^{|x|}$

a)  $f(x) = \begin{cases} x^2 - 4 & \text{si } x \leq -2 \text{ o } x > 2 \\ -x^2 + 4 & \text{si } -2 < x \leq 2 \end{cases}$

c)  $f(x) = \begin{cases} x^2 - 2x & \text{si } x \leq 0 \text{ o } x > 2 \\ -x^2 + 2x & \text{si } 0 < x \leq 2 \end{cases}$

b)  $f(x) = \begin{cases} \sin x & \text{si } 2k\pi \leq x < (2k + 1)\pi \\ -\sin x & \text{si } (2k + 1)\pi \leq x < (2k + 2)\pi \end{cases}$

d)  $f(x) = \begin{cases} 2^{-x} & \text{si } x \leq 0 \\ 2^x & \text{si } x > 0 \end{cases}$



9.85. (TIC) En cada caso, estudia y esboza la gráfica de: a)  $f(x) = \frac{x^2}{(x-2)^2}$       b)  $f(x) = \frac{x^3 - 27}{x^2 - 9}$

a)  $D(f) = \mathbb{R} - \{2\}$ . Cortes: (0, 0). No simétrica. Asíntotas:  $x = 2$ ,  $y = 1$ .

b)  $D(f) = \mathbb{R} - \{3, -3\}$ . Cortes: (0, 3). No simétrica. Asíntotas:  $x = -3$ ,  $y = x$ .

